

21 d'octubre de 2008

Nom i Cognoms:

Grup:

Preguntes

[01] Defineix clarament els següents termes econòmics: necessitat humana i neoliberalisme. **[1 punt]**

[02] Un dels primers dia de classe vam jugar al *joc de les cadires*. Quins aprenentatges econòmics i/o objectius 'encoberts' ens va aportar aquesta activitat per tal d'assimilar i entendre millor algun/s concepte/s de la matèria? Esmenta'ls. **[1 punt]**

[03] Completa les frases següents:

- (a) Quan es fan servir els recursos de manera que s'assoleix l'objectiu previst amb el cost possible, s'està actuant de manera
- (b) La quantitat màxima de producte que pot produir una empresa, a partir d'una dotació de recursos determinada, es representa per i significa utilització dels recursos productius de la mateixa.
- (c) La quantitat d'un bé o servei a la qual s'ha de per poder obtenir una bé o servei es coneix com el cost d'oportunitat.
- (d) El principal problema econòmic és Davant d'aquest fet ens veiem obligats a

[0,8 punts]

[04] Anota la 'C'ertesesa o 'F'alsedat de les següents afirmacions:

- [] La macroeconomia és la part de l'economia que estudia el comportament dels agents econòmics individuals.
- [] La microeconomia estudia el comportament agregat dels agents econòmics a escala global. Algunes qüestions que estudia són l'ocupació, la inflació, el PIB, etcètera.
- [] L'electricitat, per una banda, és un bé de consum i, per altra banda, un factor de producció.
- [] El descobriment d'una bossa de petroli al subsòl d'un país segur que farà que hi hagi un major nivell de creixement econòmic en els períodes successius.

[0,4 punts]

[05] Suposem que en una economia només es produeixen dos béns, roba i aliments, i les diferents combinacions de producció, en unitats, són les següents:


Roba	Aliments
50	0
42	6
36	15
25	20
16	30
8	38
0	45

Es demana:

- (a) Elabora la frontera de possibilitats de producció.
- (b) Quin és el cost d'oportunitat de passar de la combinació D a la E pel que fa a la roba?
- (c) En aquesta economia és possible, és possible produir les combinacions següents de roba i aliments, respectivament: (45, 0), (36, 20), (20, 20), (8, 38)? Digues si són eficients, ineficients, assolibles o inabastables? Raona-ho fent els supòsits que creguis oportuns.
- (d) Suposem que en l'economia es produeix una millora en el procés de fabricació tèxtil, sense modificar-se en absolut el sector de l'alimentació. Que succeiria amb la frontera de possibilitats de producció? Representa-ho gràficament al costat de l'apartat (a) per poder veure els canvis.

[1 punt]

Solució exercici [05]:



[06] Amb quin terme explicat a classe associes les dues imatges que es mostren a continuació. Explica'l profundament i opina'n el que creguis convenient.



(contesta-ho darrera d'aquest full)

[1,25 punts]

Nota d'Autoavaluació: []

21 d'octubre de 2008

Nom i Cognoms:

Grup:

Preguntes

[01] Defineix clarament els següents termes econòmics: economia i keynesianisme.

[1 punt]

[02] Explica àmpliament tot el què sàpigues sobre la producció i els factors o recursos productius. Subratllen les idees principals.

[1,25 punts]

[03] Completa les frases següents:

- (d) Quan es fan servir els recursos de manera que s'assoleix l'objectiu previst amb el cost possible, s'està actuant de manera
- (e) La quantitat màxima de producte que pot produir una empresa, a partir d'una dotació de recursos determinada, es representa per i significa utilització dels recursos productius de la mateixa.
- (f) La quantitat d'un bé o servei a la qual s'ha de per poder obtenir una bé o servei es coneix com el cost d'oportunitat.
- (d) El principal problema econòmic és Davant d'aquest fet ens veiem obligats a



[0,8 punts]

[04] Anota la 'C'ertesada o 'F'alsedat de les següents afirmacions:

- [] La macroeconomia és la part de l'economia que estudia el comportament dels agents econòmics individuals.
- [] La microeconomia estudia el comportament agregat dels agents econòmics a escala global. Algunes qüestions que estudia són l'ocupació, la inflació, el PIB, etcètera.
- [] L'electricitat, per una banda, és un bé de consum i, per altra banda, un factor de producció.
- [] El descobriment d'una bossa de petroli al subsòl d'un país segur que farà que hi hagi un major nivell de creixement econòmic en els períodes successius.

[0,4 punts]

[05] Quin seria aquell o aquells termes econòmics que ens seria/en més fàcil/s d'explicar als alumnes a partir de les imatges que es mostren a continuació. Explica'ls clarament.



(contesta-ho en un altre full)

[1 punt]

Nota d'Autoavaluació: []